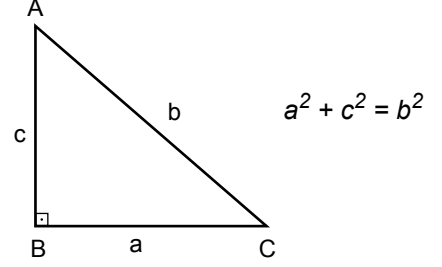
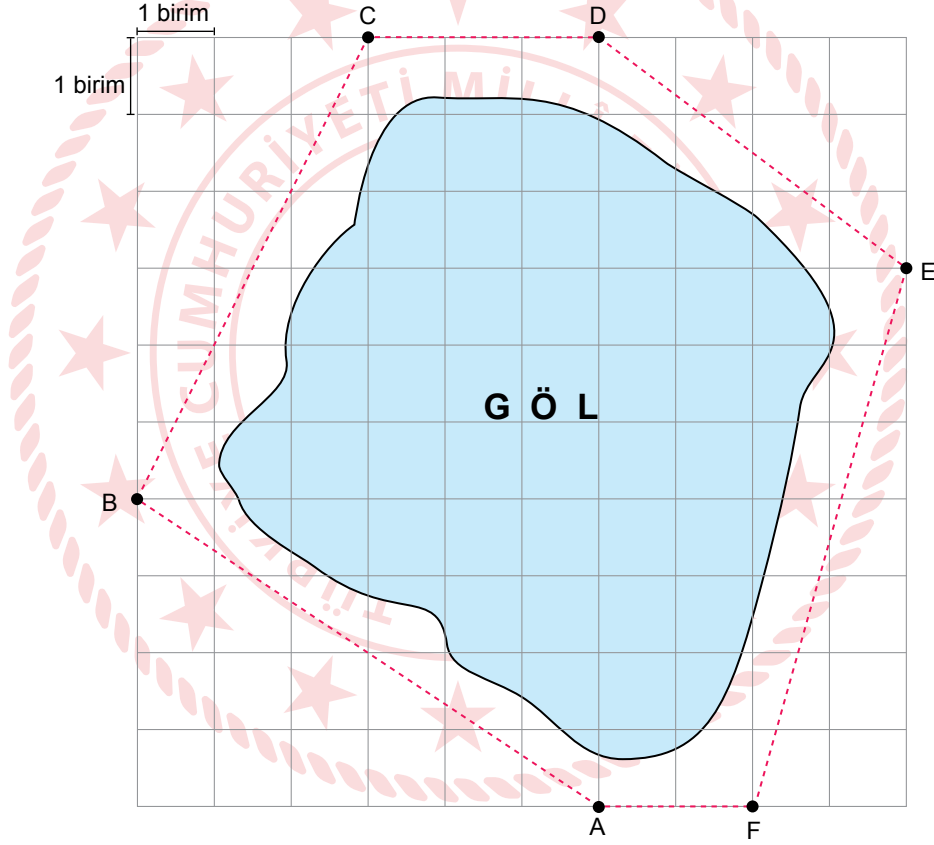


## Matematik Örnek Soruları

1. Dik üçgenlerde  $90^\circ$  lik açının karşısındaki kenara hipotenüs denir.  
Bir dik üçgende dik kenarların uzunluklarının kareleri toplamı,  
hipotenüsün uzunluğunun karesine eşittir.



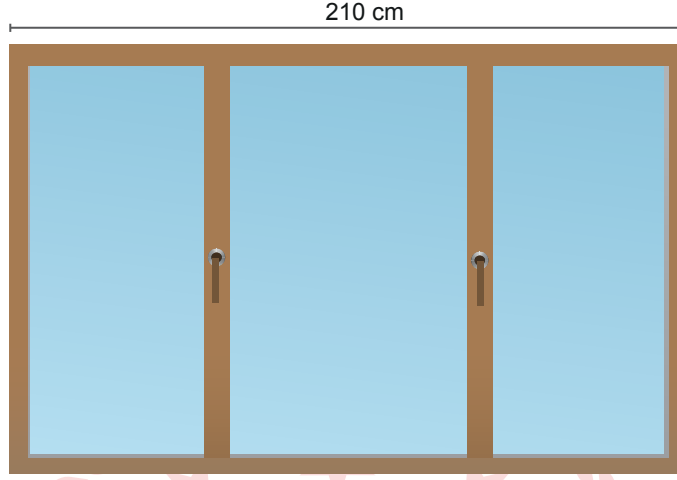
Aşağıdaki şekilde bir göl ve gölün çevresinde yapılması planlanan yürüyüş yolu (noktalı çizgiler) kuş bakışı olarak gösterilmiştir.



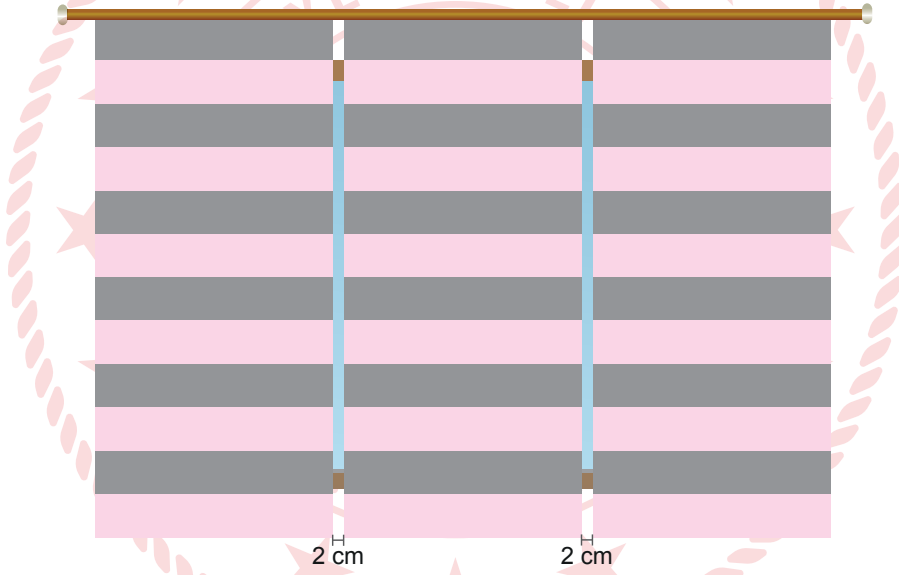
Bu yürüyüş yolunun aşağıda belirtilen kısımlarından hangisi en uzundur?

- A) AB yolu                      B) BC yolu                      C) DE yolu                      D) EF yolu

2. Feyza Hanım, bürosunun 210 cm genişliğindeki penceresi için perde yaptırmak istemektedir.



Perdeciye aralarında 2'şer cm boşluk olacak ve penceresinin her iki yanından da en çok 15 cm taşacak şekilde aynı genişlikte üç stor perde sipariş etmiştir.



Buna göre perdecinin hazırlaması gereken her bir stor perdenin genişliğinin santimetre cinsinden alabileceği en büyük tam sayı değeri kaçtır?

A) 79

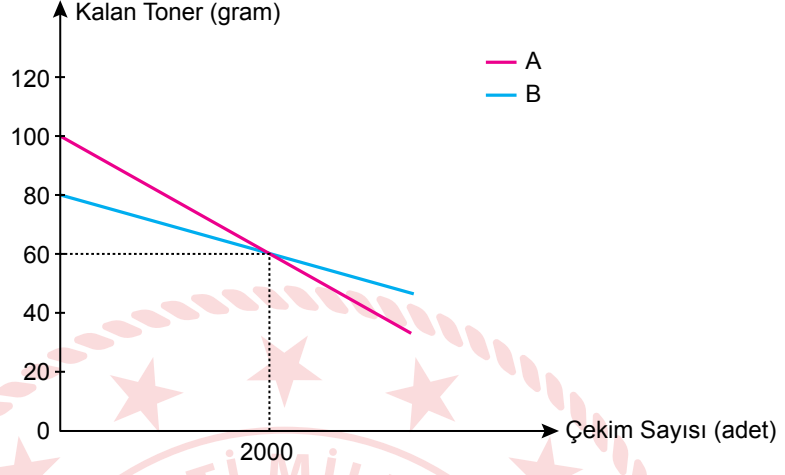
B) 78

C) 77

D) 76

3. Bir kurumda bulunan iki fotokopi makinesinden birincisinde A marka, ikincisinde B marka toner kullanılmaktadır. Aşağıda fotokopi çekim sayısına göre bu makinelerde kalan toner miktarını gösteren doğrusal grafik verilmiştir.

Grafik: Çekim Sayısına Göre Kalan Toner Miktarı



100 gramlık A marka tonerin fiyatı 500 TL ve 80 gramlık B marka tonerin fiyatı 750 TL'dir.

**Bir ay içinde birinci makine ile 15 000 çekim, ikinci makine ile 32 000 çekim yapıldığında kurumun aylık toner maliyeti toplam kaç TL olur?**

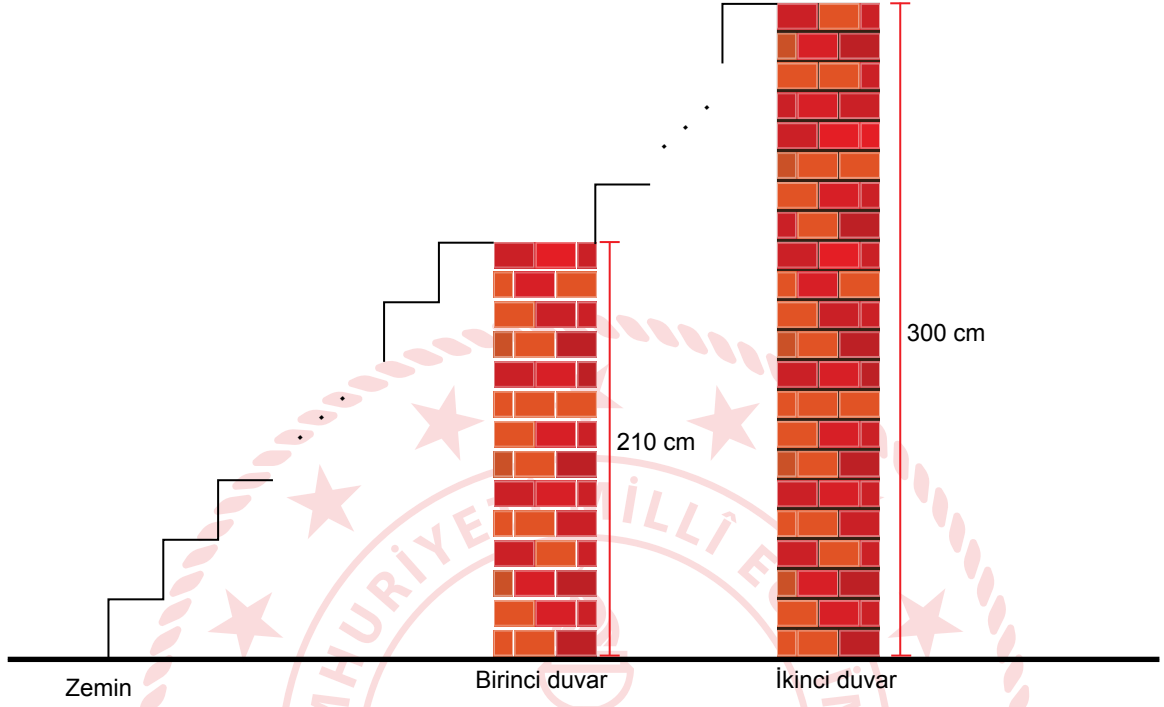
A) 3000

B) 3500

C) 4000

D) 4500

4. Merdivenlerin basamaklarının yüksekliđi belli standartlara gre yapılmaktadır. Bu standartlara gre basamak yksekliđi 18 cm'den fazla olmamalıdır. Ařađıda bu standartlara gre zeminden birinci duvarın ystne ve birinci duvardan ikinci duvarın ystne dođru yapılacak eř basamaklardan oluřan merdiven modellenmiřtir.



**Modeldeki merdivenin basamaklarının yksekliđi santimetre cinsinden tam sayı olduđuna gre bu merdiven en az ka basamaktan oluřmuřtur?**

A) 10

B) 15

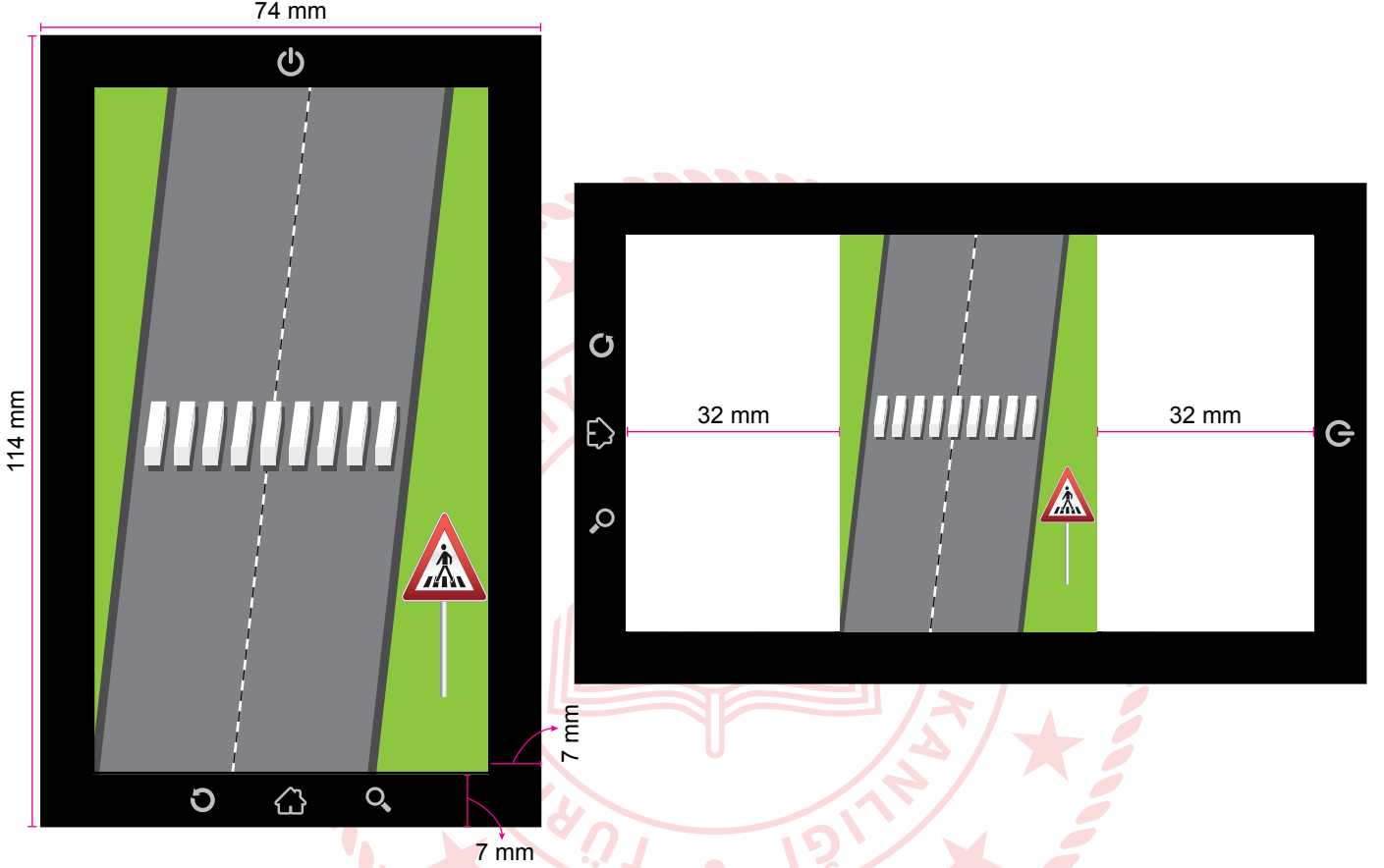
C) 20

D) 30

5. Görünüşleri aynı fakat ölçüleri farklı olan şekillere benzer şekiller denir.

Benzer çokgenlerin karşılıklı kenarlarının uzunlukları orantılıdır. Bu orana "benzerlik oranı" denir.

Aşağıda ölçüleri verilen akıllı telefon dikey konumda iken çekilen bir fotoğrafın, telefon yatay konuma getirildiğinde oluşan görüntüsü verilmiştir.



Görselde, telefon dikey konumda iken fotoğrafın tüm ekranı kapladığı, telefon yatay konuma getirildiğinde ise fotoğrafın görünüşünün aynı fakat ölçülerinin değiştiği ve her iki yanında 32 mm lik boşluk kaldığı görülmektedir.

**Buna göre ekran görüntülerindeki üçgen yaya geçidi levhaları arasındaki benzerlik oranı aşağıdakilerden hangisidir?**

A)  $\frac{2}{5}$

B)  $\frac{1}{2}$

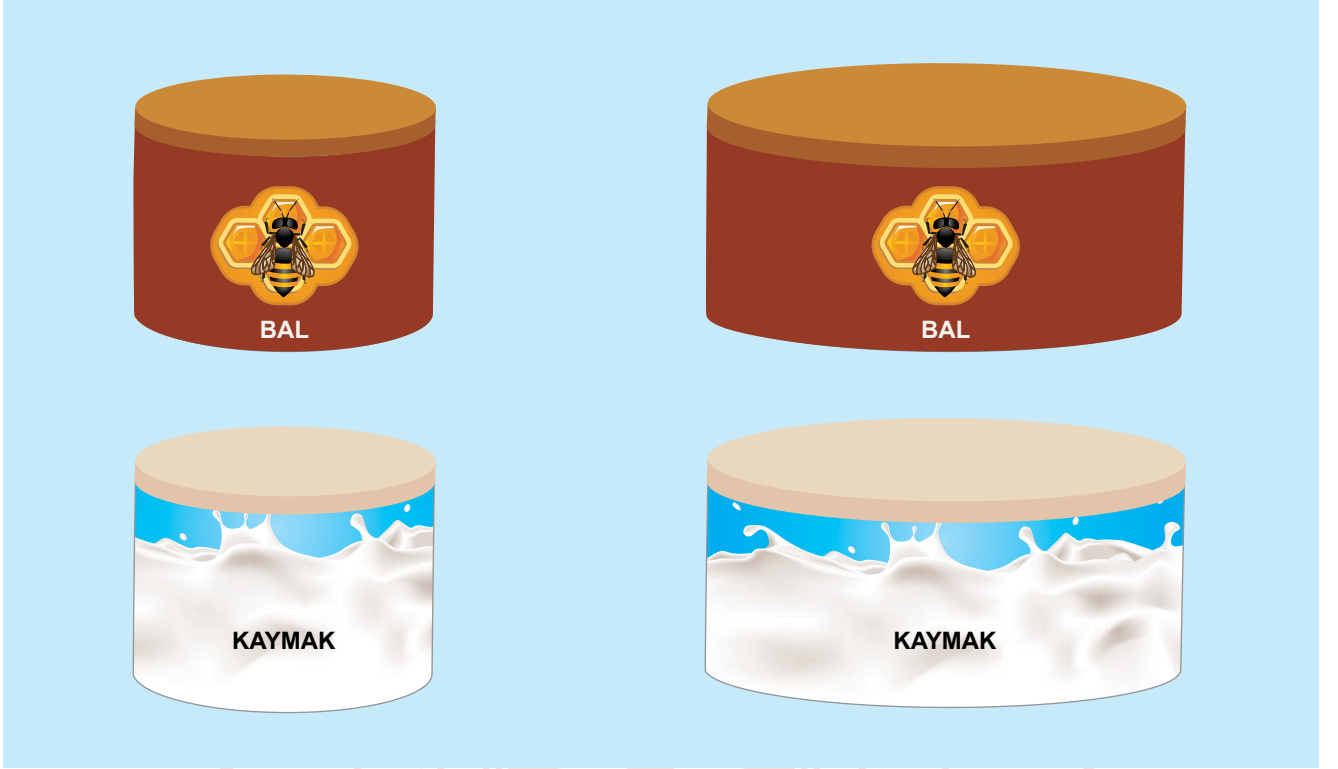
C)  $\frac{3}{5}$

D)  $\frac{2}{3}$

6. Yarıçapı  $r$  olan dairenin alanı  $\pi r^2$  formülü ile hesaplanır.

Yarıçapı  $r$ , yüksekliği  $h$  olan dik dairesel silindirin hacmi  $\pi r^2 h$  formülü ile hesaplanır.

Bir markette yükseklikleri eşit silindir şeklindeki teneke kutularda bal ve kaymak satılmaktadır. Yarıçaplarının uzunlukları 4 cm ve 6 cm olan bu kutularda satılan bal ve kaymağın fiyatları buldukları kapların hacimleri ile orantılıdır.



Arif Bey küçük balın 36 TL ve büyük kaymağın 18 TL olduğu bu marketten büyük bal ile küçük kaymaktan birer tane almak için toplam kaç TL öder?

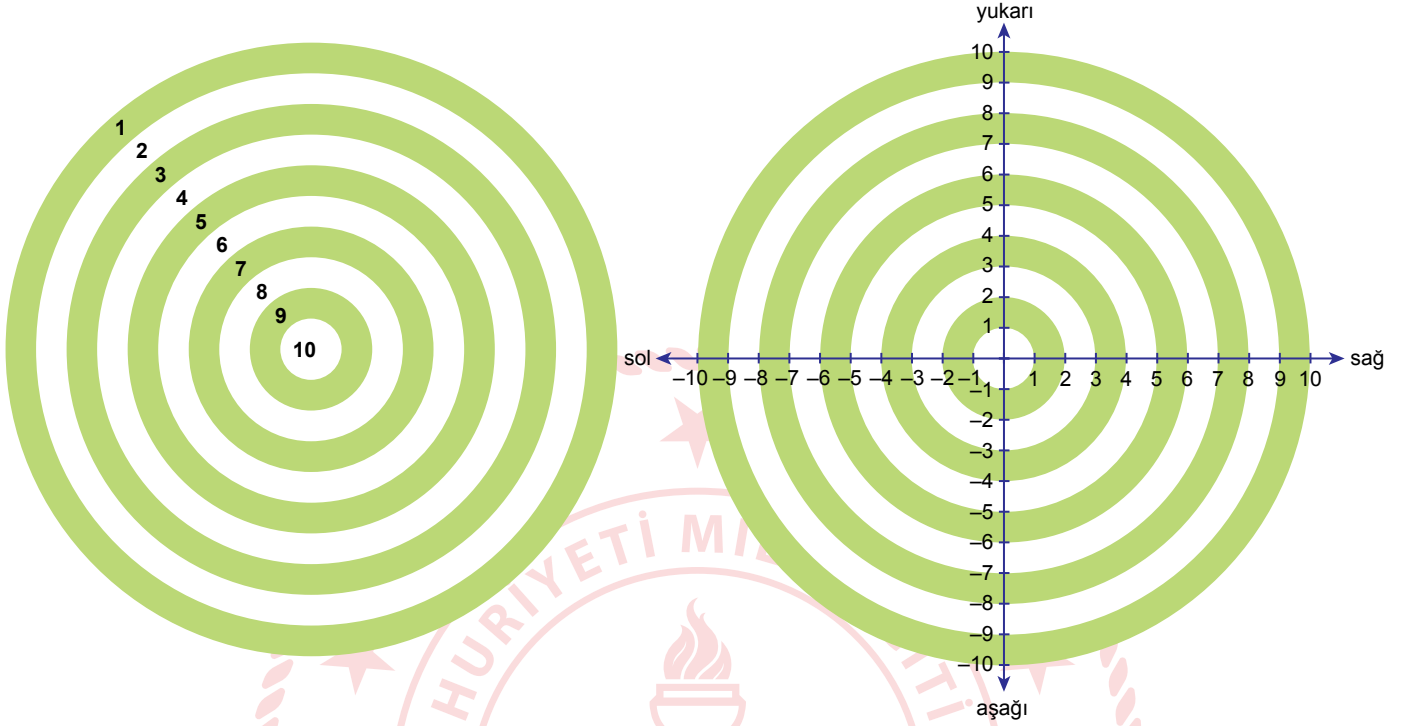
A) 95

B) 89

C) 78

D) 60

7. İki sayı doğrusunun birbirleriyle dik kesişmesiyle oluşan sisteme koordinat sistemi denir. Sayı doğrularının kesişim noktasına başlangıç noktası (orijin), yatay sayı doğrusuna x eksen, dikey sayı doğrusuna y eksen denir.



Yukarıda bir hedef tahtası ve bu hedef tahtasındaki dairesel şeritlerin vurulmaları durumunda kazandıracığı puanlar verilmiştir. Bu hedef tahtasının üzerine sağdaki gibi orijini hedef tahtasının tam orta noktası olacak şekilde bir koordinat sistemi yerleştiriliyor.

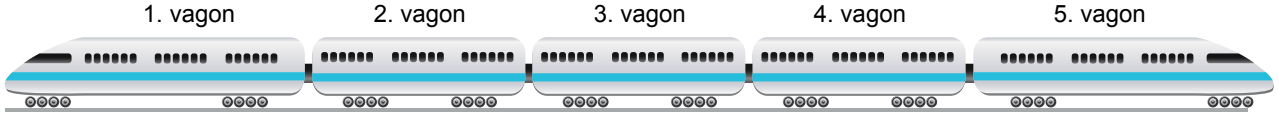
Gizem bu hedef tahtasına iki atış yapıyor.

1. atışında; hedeflediği yerin x eksenine göre yansıması olan noktayı vurmuş ve 5 puan kazanmıştır.
2. atışında; hedeflediği yerin 3 birim yukarı ve 5 birim solundaki nokta olan hedef tahtasının tam ortasını vurarak 10 puan kazanmıştır.

**Eğer Gizem her iki atışında da hedeflediği yeri vursaydı atışlarından hangi puanları alırdı?**

<u>1. Atış</u>	<u>2. Atış</u>
A) 5 puan	4 puan
B) 5 puan	5 puan
C) 10 puan	4 puan
D) 10 puan	5 puan

8.



Her bir vagonu en çok 100 yolcu alabilen 5 vagonlu bir trenin vagonlarındaki yolcu sayıları ile ilgili aşağıdaki bilgiler veriliyor.

- En çok yolcu 1. vagona, en az yolcu 4. vagonadadır.
- 2. vagondaki yolcu sayısı 5. vagondaki yolcu sayısının 2 katından fazladır.
- 3. vagona 40 yolculuk boş yer vardır.

**Verilen bilgilere göre bu trendeki toplam yolcu sayısı en çok kaçtır?**

A) 360

B) 358

C) 356

D) 354

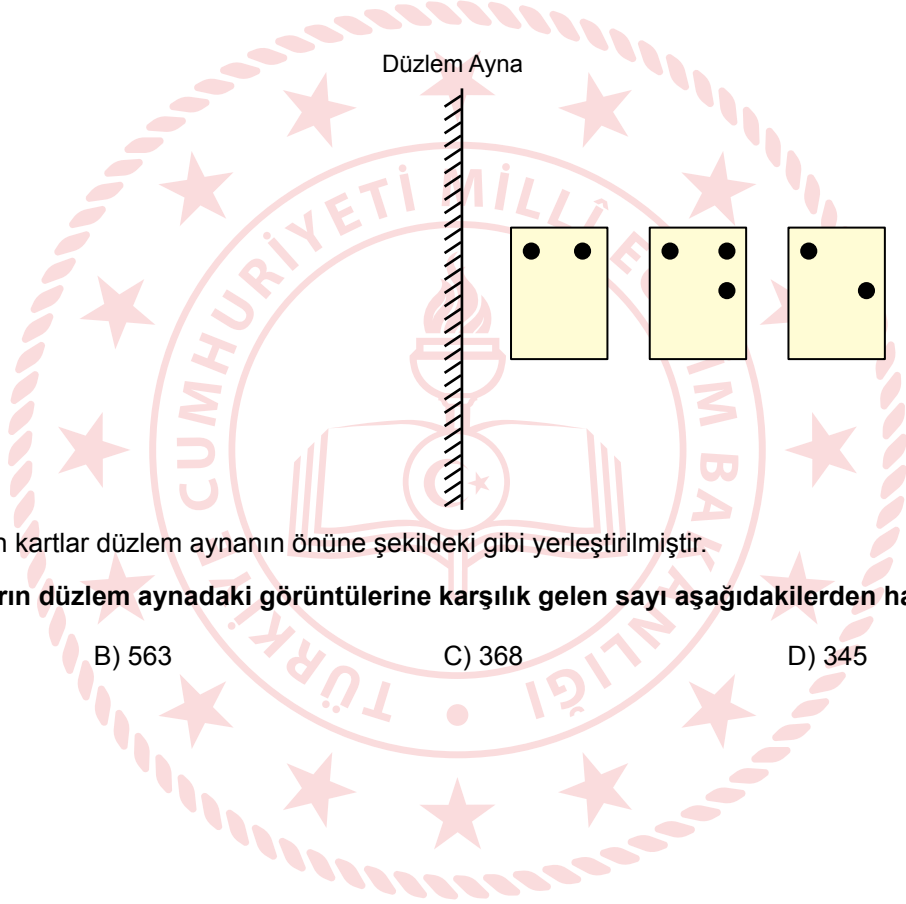
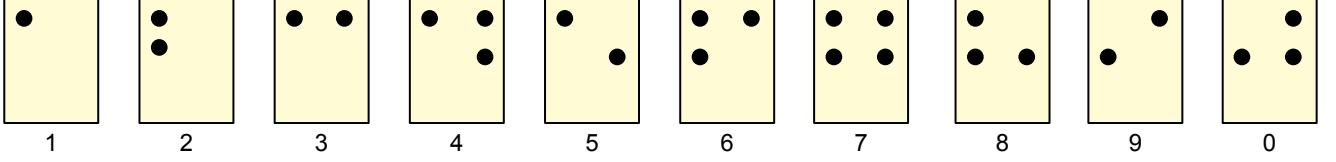




9. Düzlem aynalarda görüntü aynaya göre cismin simetriğidir. Simetri, cismin ve cismin görüntüsünün ayna ekseninde katlandığında birbiriyle çakışacak biçimde üst üste gelmesidir.

Braille Alfabeti, görme engellilerin kullandığı bir kağıt üzerine iğne yardımıyla yazılabilen alfabedeki harflerin, sayıların, bağlaçların ve noktalama işaretlerinin de belirtildiği sistemdir.

Bu sistemdeki rakamları ifade eden kartlar aşağıda verilmiştir.



345 sayısını oluşturan kartlar düzlem aynanın önüne şekildeki gibi yerleştirilmiştir.

**Buna göre bu kartların düzlem aynadaki görüntülerine karşılık gelen sayı aşağıdakilerden hangisidir?**

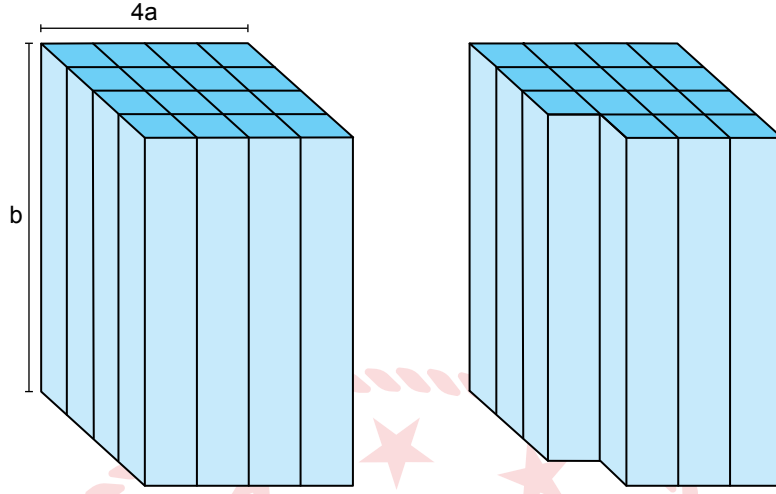
A) 963

B) 563

C) 368

D) 345

10. Taban ayrıt uzunluğu  $4a$  birim ve yüksekliği  $b$  birim olan aşağıdaki kare prizma eş kare prizmalardan oluşmuştur.



Bir köşedeki bir kare prizma çıkarıldığında oluşan yeni şeklin yüzey alanındaki azalışı birimkare cinsinden gösteren cebirsel ifade aşağıdakilerden hangisidir?

A)  $2a^2$

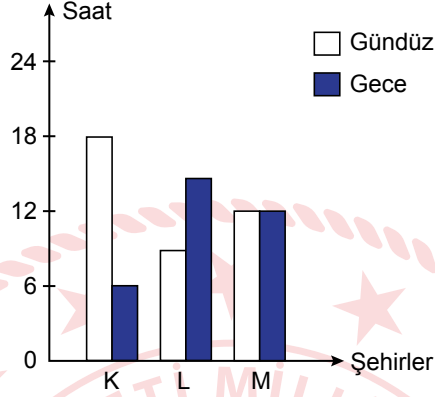
B)  $2ab$

C)  $ab + a^2$

D)  $ab + 2a^2$

## Fen Bilimleri Örnek Soruları

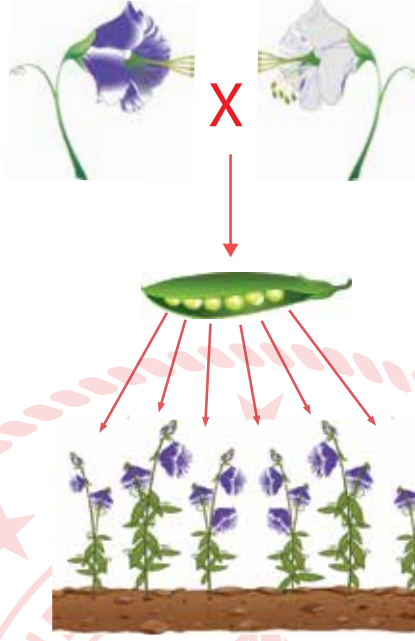
1. Aşağıdaki grafik, 21 Haziran'da K, L ve M şehirlerinde yaşanan gece ve gündüz sürelerini göstermektedir.



Bu grafiğe göre K, L ve M şehirlerinin Dünya üzerindeki konumları aşağıdakilerin hangisinde doğru verilmiştir?

	Kuzey Yarım Küre	Güney Yarım Küre	Ekvator
A)	K	L	M
B)	L	K	M
C)	M	K	L
D)	M	L	K

2. Mendel, homozigot mor ve beyaz çiçekli bitkileri çaprazlayarak elde ettiği tohumları ekmiş ve gelişen yavru bezelyelerin çiçek renklerini gözlemlemiştir.



**Gelişen bezelyelerin bütün çiçeklerinin mor renkli olduğu gözlemlendiğine göre bu bezelyeler ile ilgili,**

- I. Bezelyelerde mor çiçek özelliği beyaz çiçek özelliğine baskındır.
- II. Yavru bezelyelerin çiçek rengi bakımından genotipleri heterozigottur.
- III. Yavru bezelyeler kendi arasında çaprazlandığında beyaz çiçekli bezelye oluşma ihtimali  $3/4$ 'tür.

**yorumlarından hangileri yapılamaz?**

A) Yalnız I.

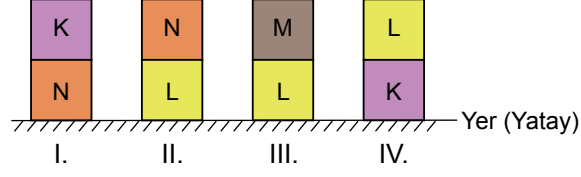
B) Yalnız III.

C) I ve II.

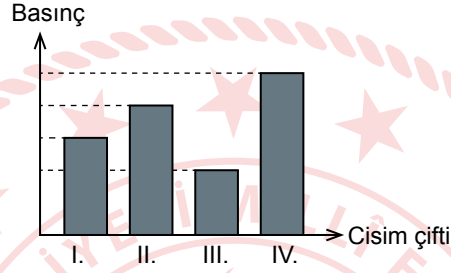
D) II ve III.

3. Katı maddeler ağırlıkları nedeniyle buldukları yüzeye kuvvet uygular. Birim yüzeye etki eden bu kuvvete basınç denir. Katıların basıncı, uyguladıkları kuvvete ve yere temas eden yüzeylerine bağlı olarak değişir.

Taban alanları birbirine eşit olan, düzgün şekilli K, L, M ve N cisimleri aşağıdaki gibi üst üste konmuştur.



Cisim çiftlerinin yere uyguladığı basınçların büyüklükleri grafikte gösterilmiştir.

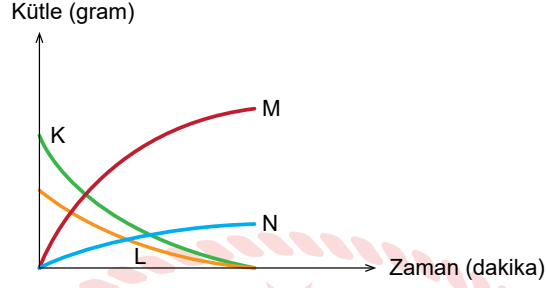


Buna göre cisimlerin ağırlıklarının doğru sıralaması aşağıdakilerden hangisidir?

- A)  $K > L > M > N$       B)  $L > K > N > M$       C)  $M > L > K > N$       D)  $N > K > L > M$

4. Maddenin kimyasal deęişime uğrayarak yeni maddeleri oluşturma sürecine kimyasal tepkime denir. Kimyasal tepkimelerde atom sayısı ve çeşidi korunduğundan kütle de korunur.

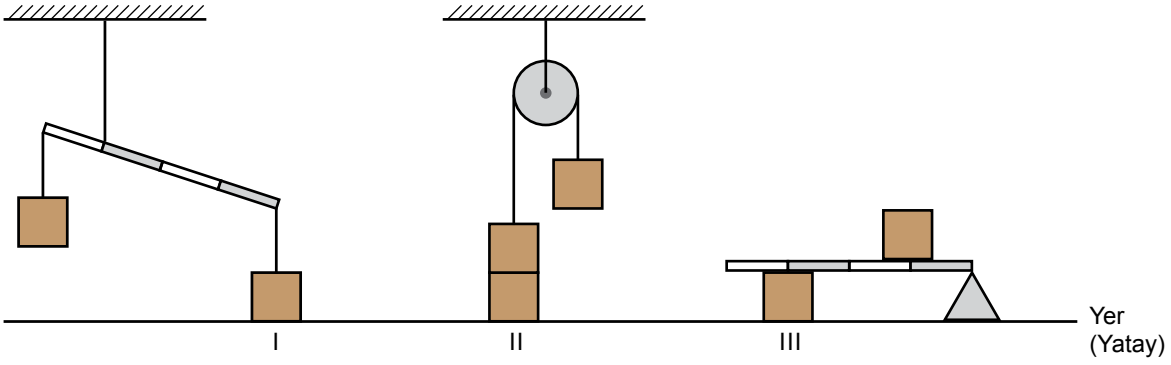
Öğretmen, kapalı bir kaptaki gerçekleştiği kimyasal bir tepkime sonunda K, L, M katılarının ve N gazının kütlelerinde oluşan deęişimi aşağıdaki kütle-zaman grafiğini çizerek öğrencilerine göstermiştir.



**Buna göre grafiği inceleyen öğrencilerin tepkime ile ilgili yaptığı yorumlardan hangisi doğrudur?**

- A) Kaptaki toplam katı kütlesi korunmuştur.
- B) K ve N maddelerinin kütleleri azalırken M maddesinin kütlesi artmıştır.
- C) K ve L maddeleri biterken M ve N maddeleri oluşmuştur.
- D) M maddesinin kütlesi, K ve L maddelerinin kütleleri toplamına eşittir.

5. Özdeş yükler kullanılarak oluşturulmuş farklı düzenekler aşağıdaki gibi hareketsiz durmaktadır.



**Buna göre I, II ve III ile numaralı yüklerin yere uyguladığı basınçlar arasındaki ilişki aşağıdakilerden hangisidir?**  
(Eşit bölmelendirilmiş homojen kaldıraç çubuklarının ağırlıkları önemsenmeyecektir.)

A)  $I > II > III$

B)  $II > I > III$

C)  $III > I > II$

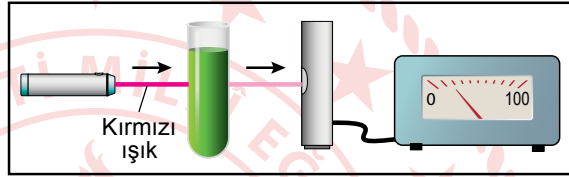
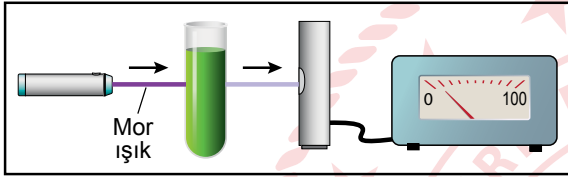
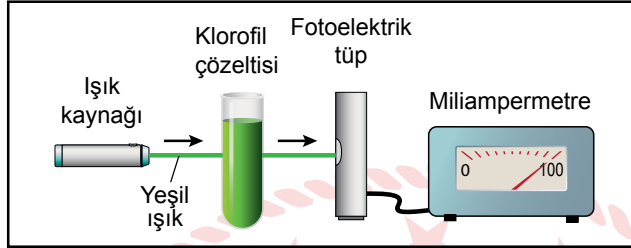
D)  $III > II > I$



6. Bitkilerin fotosentez yapabilmesi için klorofilin ışığı soğurması gerekir. Işığın soğurulma miktarı arttıkça fotosentez hızı da artar.

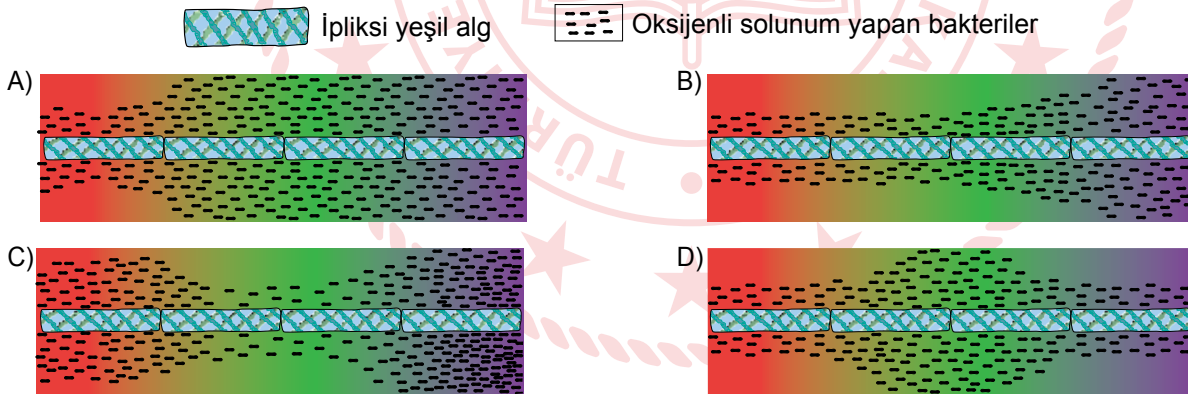
Fotoelektrik tüp, ışık enerjisini elektrik enerjisine dönüştüren alettir. Oluşan elektrik akımı ise miliampermetre ile ölçülür. Miliampermetrede okunan değerin yüksek olması, klorofilin o rengi az soğurarak geçirdiğini gösterir.

Aşağıdaki şekillerde belirlenen renlerdeki ışıkların, klorofil çözeltisi bulunan tüp içinden geçerek fotoelektrik tüp aracılığıyla oluşturdukları elektrik akımları gösterilmektedir.



Işık renginin fotosenteze etkisini araştırmak isteyen bir araştırmacı, farklı renlerdeki ışıkları ipliksi yeşil alg üzerine düşürmüştür. Algdeki fotosentez hızını ölçmek için ise algin bulunduğu deney kabına sadece oksijenli solunum yapan bakteri türü koymuştur.

Verilen bilgilere göre deney ortamında bakterilerin alg üzerindeki ışık rengine bağlı dağılımlarının aşağıdakilerden hangisi gibi olması beklenir?





7. Nötr plastik bir çubuk ile nötr yün kumaş, şekilde gösterildiği gibi birbirine sürtülerek plastik çubuğun negatif, yün kumaşın ise pozitif elektrik yükü ile yüklenmesi sağlanmıştır.




**Negatif elektrik yüklü plastik çubuk ve pozitif elektrik yüklü yün kumaş ile ilgili,**

- I. Plastik çubuktaki negatif elektrik yükü sayısı, pozitif elektrik yükü sayısından fazladır.
- II. Yün kumaştaki pozitif elektrik yükü sayısı, plastik çubuktaki negatif elektrik yükü sayısına eşittir.
- III. Yün kumaştaki pozitif elektrik yükü sayısı, plastik çubuktaki pozitif elektrik yükü sayısından fazladır.

**yargılarından hangileri kesinlikle doğrudur?**

- A) Yalnız I.                      B) Yalnız III.                      C) I ve II.                      D) II ve III.

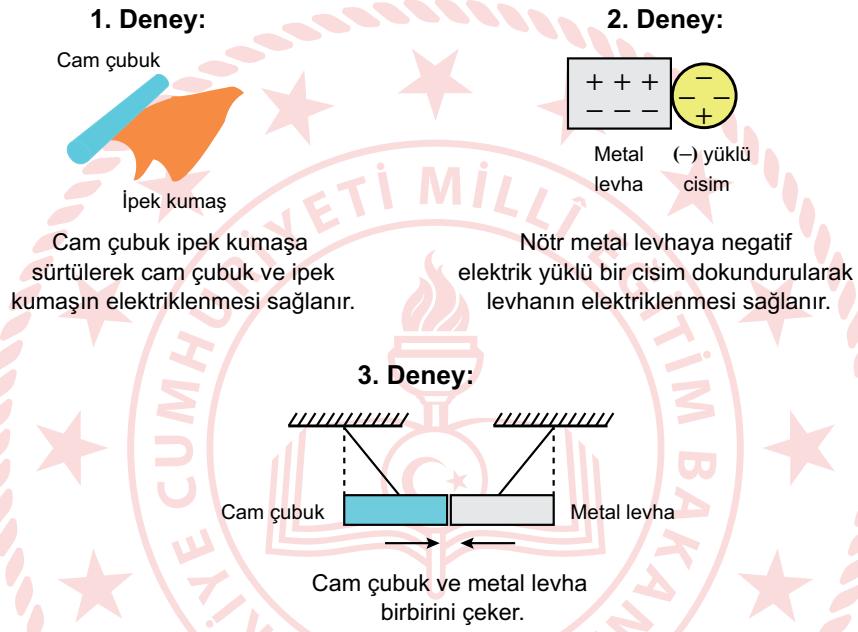


8. Elektriklenme, günlük yaşamın birçok alanında ve teknolojide kullanılır. Örneğin otomobil ve beyaz eşyaların boyanmasında elektriklenmeden faydalanılır.

Boyama olaylarında gerçekleşen aşamalar aşağıda verilmiştir.

- I. Boyanacak otomobil ya da beyaz eşyanın yüzeyi negatif (-) elektrik yüküyle yüklenir.
- II. Boya damlacıklarının, püskürtme mekanizmasında pozitif (+) elektrik yüküyle yüklenmesi sağlanır.
- III. Boya damlacıkları püskürtme sırasında birbirini iter, böylece üst üste yapışmaz.
- IV. Boya damlacıkları ile yüzeyin elektrik yükleri birbirine zıt olduğundan boya tanecikleri yüzeye yapışır.

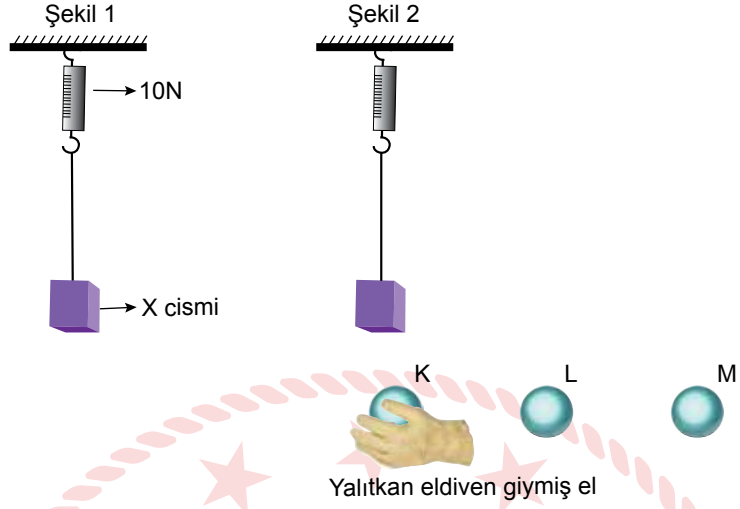
Bir öğrenci, numaralanmış aşamalarda gerçekleşen olayları temsilen deneyler gerçekleştiriyor fakat bu aşamalardan biri için deney oluşturamıyor.



**Buna göre öğrenci hangi aşama için deney oluşturamamıştır?**

- A) I. B) II. C) III. D) IV.

9. Elektrik yüklerinin cisimler üzerindeki etkisini araştıran bir öğrenci aşağıdaki deney düzeneğini hazırlıyor.




Yükünü bilmediği K, L ve M iletken kürelerini yalıtkan eldiven giymiş olduğu eliyle sabit ve X cismine etki edecek şekilde tutuyor. X cisminin bağlı olduğu dinamometrede okunan değerleri aşağıdaki tabloya kaydediyor.

Cisimler	K	L	M
Dinamometrede okunan değerler	20 N	10 N	5 N

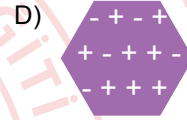
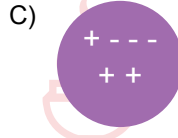
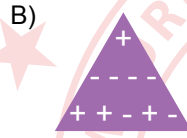
İletken X cisminin yükü bilinmediğine göre K, L ve M küreleriyle ilgili aşağıdakilerden hangisine ulaşılabilir?

- A) X pozitif yüklü ise K de pozitif yüklüdür.  
B) X negatif ise L de nötrdür.  
C) X pozitif yüklü ise M nötrdür.  
D) X negatif yüklü ise M de negatif yüklüdür.

10. Ceren, nötr bir elektroskobun topuzuna elektrik yükü hakkında bilgi sahibi olmadığı bir cismi dokundurunca, elektroskobun şekilde gösterildiği gibi negatif yüklenecek yapraklarının açıldığını gözlemlemiştir.



Buna göre Ceren'in elektroskobun topuzuna dokundurduğu cismin, dokundurmadan önceki yük durumu aşağıdakilerden hangisi olabilir?



## Türkçe Örnek Soruları

1. Besinler, mineral içeriğine göre asitli ve alkali olarak sınıflandırılmaktadır. Bir besinin asit ve alkali derecesini belirtmek için pH cetvelindeki 0-14 arası değerler kullanılır. Bu cetvele göre sınıflandırılan besinlerin bazı özellikleri aşağıda verilmiştir.
- **4-7 arası pH değerlerine sahip besinler:** Asitli olarak adlandırılan bu besinler, fazla tüketildiğinde vücut direncini düşürür. Vücut, dengeyi sağlayabilmek için kemik ve kaslardan magnezyum, kalsiyum, çinko gibi alkali mineralleri kullanmaya ve fazla asidi dokularda depolamaya başlar. Bu da eklem ve kas ağrıları, yorgunluk, saç dökülmesi gibi rahatsızlıklara neden olmaktadır.
  - **7 pH değerinde olan besinler:** Asit ve alkali bakımından nötr (etkisiz) besinlerdir.
  - **7-10 arası pH değerlerine sahip besinler:** Alkali olarak adlandırılan bu besinler kanın temizlenmesini sağlar, yüksek magnezyum ve potasyum içerdiğinden vücuda direnç kazandırır.
- Aşağıdaki tabloda bazı besinler pH cetveline göre sınıflandırılmıştır.



Bu metin ve tablodan hareketle aşağıdakilerin hangisi söylenemez?

- A) Lahana ve kayısı, vücuda direnç kazandıran besinlerdir.  
B) Et ürünlerinin fazla tüketilmesi eklem ve kas ağrılarına yol açabilir.  
C) Peynir, fındık ve yulaf saç dökülmesine neden olabilir.  
D) Pişmiş ıspanak ve siyah çay, kanı temizleme özelliğine sahiptir.

2. Bazı Nasrettin Hoca fıkralarında, insanlara bireysel özelliklerini göz önünde bulundurarak davranmak gerektiği vurgulanır.



**Aşağıdaki fıkralardan hangisi bu cümlede sözü edilen duruma örnek olabilir?**

- A) Adamın birine babasından büyük bir miras kalır. Kısa zamanda bu mirası tüketen adam, Hoca'ya gelerek "Elimde avucumda hiçbir şey kalmadı Hoca'm, bana bir çare!" diye yalvarır. Hoca, gayet sakin bir şekilde "Merak etme, yakında bu dertten kurtulursun." der. Adam, sevinçle "Yoksa tekrar zengin mi olacağım?" deyince de "Hayır, parasızlığa alışacaksın!" karşılığını verir.
- B) Hoca'nın cimri komşusu bir gün göle düşer. Arkadaşları ona yardım etmek için "Elini ver de seni çıkaralım." derler. Fakat cimrilik, ruhuna öyle işlemiştir ki boğulma tehlikesiyle karşı karşıya kalmasına rağmen elini vermek istemez. Komşusunu çok iyi tanıyan Hoca "Al elimi de seni çıkarayım." deyince adam, Hoca'nın elini tutar ve boğulmaktan kurtulur.
- C) Nasrettin Hoca bir gün yoğurt mayalamak için göl kenarına gitmiş. Göle kaşık kaşık yoğurt dökmeye başlamış. Gölün etrafında piknik yapan köylüler şaşırılmış. İçlerinden biri, Hoca'nın yanına gelerek şöyle demiş:
- Hayırdır Hoca'm, ne yapıyorsun böyle?
  - Göle yoğurt çalıyorum.
  - İlahi hocam, göl maya tutar mı?
  - Ya tutarsa...
- D) Hoca bir gün pazarda bir papağanın çok pahalı satıldığını görünce gidip evden hindisini getirmiş ve yüksek bir fiyata satmaya çalışmış. Yanındakiler gülererek "Hoca'm, bu hindi bu kadar para eder mi?" diye sormuşlar. Hoca, papağana da çok yüksek bir fiyat istediklerini söyleyince "O papağan konuşur da ondan pahalıdır." demişler. Hoca, "O konuşursa bu da düşünür." cevabını vermiş.

3.


## GÖBEKLİTEPE UNESCO DÜNYA MİRAS LİSTESİ'NDE

Dışişleri Bakanlığı, Şanlıurfa'daki Göbeklitepe Arkeolojik Alanı'nın, 2018'de UNESCO Dünya Miras Listesi'ne girmesiyle Türkiye'nin söz konusu listeye kayıtlı alanlarının sayısının arttığını duyurdu.




**İLK KEZ 1963'TE FARK EDİLEN GÖBEKLİTEPE'DE BUGÜNE KADAR GÜN YÜZÜNE ÇIKARILAN BAZI ESERLER:**

8 ila 30 m çapında dünyanın en eski tapınak kalıntıları




Çok sayıda yabancı hayvan figürü, insan heykeli




65 cm

Yaklaşık 12 bin yıl öncesine ait olduğu belirtilen 65 cm uzunluğunda insan heykeli




3 ila 6 m


Neolitik Dönem'e ait, boyları 3 ila 6 m, ağırlıkları 40 ila 60 ton olan yabancı hayvan figürlü, "T" biçimli dikili taşlar



Göbeklitepe, "dünyanın en eski tapınak merkezi" kabul ediliyor.



Altı yıl önce UNESCO Dünya Mirası Geçici Listesi'ne alındı.



Bahreyn'de yapılan 42'nci Dünya Miras Komitesi Toplantısı'nda UNESCO Dünya Kültürel Miras Listesi'ne kabul edildi.

**Bu görseldeki bilgilerden hareketle Göbeklitepe ile ilgili,**

- I. İnanç tarihine ait bilgileri altüst eden bir tapınaktır.
- II. İçindeki T biçimli ve hayvan figürlü dikili taşlar insanı temsil etmektedir.
- III. Türkiye'nin, Dünya Miras Listesi'nde Göbeklitepe dışında da eserleri vardır.

**yargılarından hangilerine ulaşamaz?**

- A) Yalnız I.                      B) Yalnız III.                      C) I ve II.                      D) II ve III.

4. Aşağıdaki medya metinlerinden hangisinin yazılış amacı yay ayraç içinde yanlış verilmiştir?

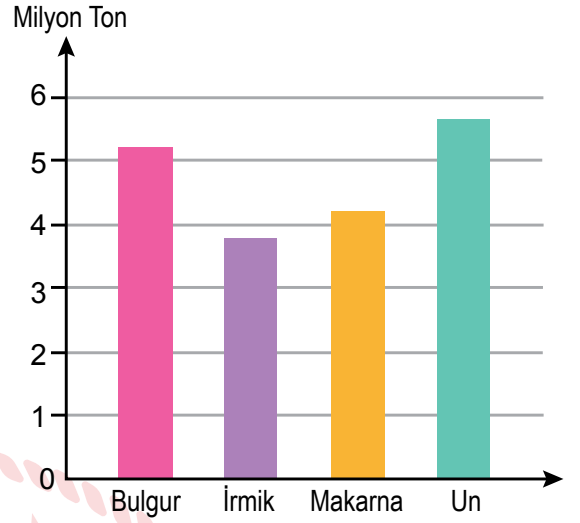
- A) Dünyadaki böcek türlerinin sayısı her geçen yıl azalıyor. Bu azalmaya zirai endüstri, doğal ortamların yok edilmesi, böcek ilacı kullanımı ve iklim değişikliği neden olmaktadır. Araştırmacılar önümüzdeki 30-40 yıl içinde gıda üretme yöntemleri değiştirilmezse böceklerin yok olacağını vurguluyor. (Olay yorumlama)
- B) Kahve, Anadolu'nun dillere destan konukseverliğinin en önemli göstergelerinden biridir. Anadolu'da sizi acı bir kahve içmeye çağıran kişiye "Neden acı kahve?" diyemezsiniz. Bu acılıkta, yıllar yılı sürececek bir tatlılık, yakın bir dostluk vardır. Bu yüzden "Bir fincan kahvenin kırk yıl hatırı vardır." sözü Anadolu'nun her yerinde, her zaman söylenir durur. (Kültür aktarma)
- C) Buğday unu tüketimi ile obezite arasında doğrudan bağlantı kurulamıyor. Dünya Sağlık Örgütü'nün açıklamalarına göre Fransa'da kişi başına düşen buğday tüketimi Amerika'dakinden %50 fazla olmasına rağmen obezite oranı Amerika'dan çok daha düşük. İtalya'da ise Amerika'dakinin iki katı buğday tüketilmesine rağmen obezite oranı Amerika'dakinin dörtte biri oranında. (İkna etme)
- D) Avrupa Nükleer Araştırma Merkezi (CERN) dünyanın en büyük fizik laboratuvarıdır. On iki Avrupa ülkesi tarafından 1954'te kurulmuştur. CERN'e üye ülkeler kendi olanakları ile gerçekleştirecekleri yüksek maliyetli araştırmaları burada yapmaktadır. 2015'ten beri CERN'e üye olan Türkiye de oradaki çalışmalara katılabilmektedir. (Bilgilendirme)



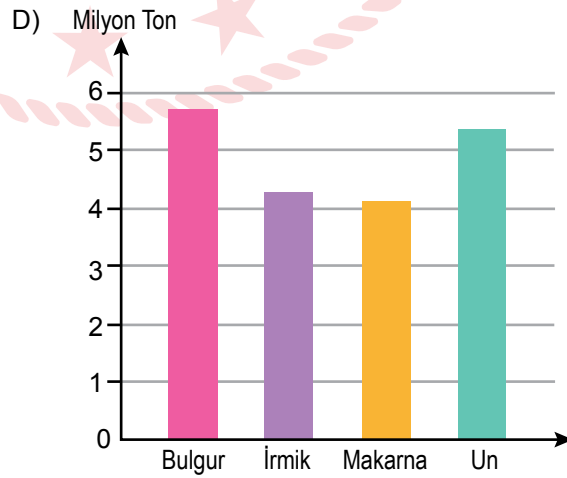
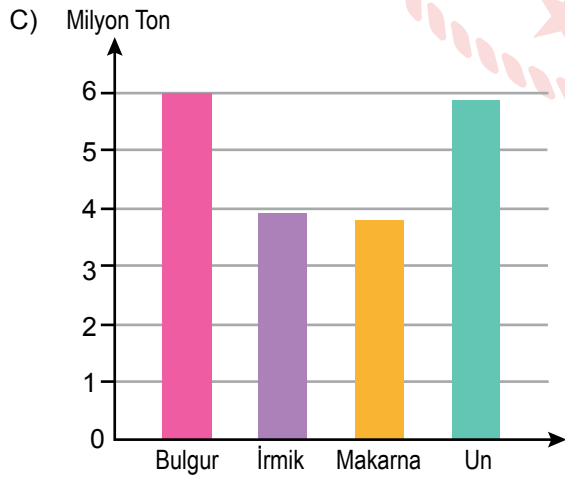
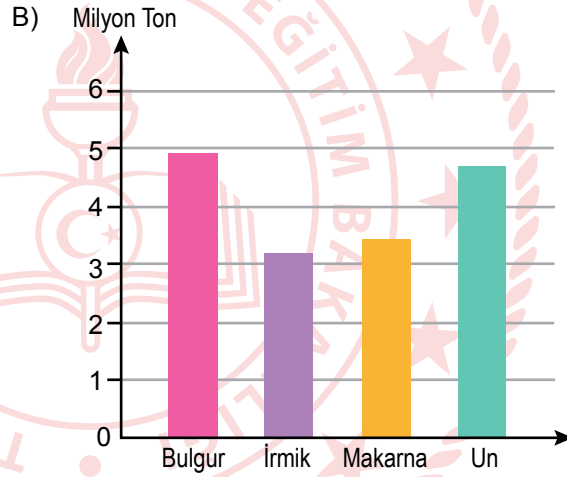
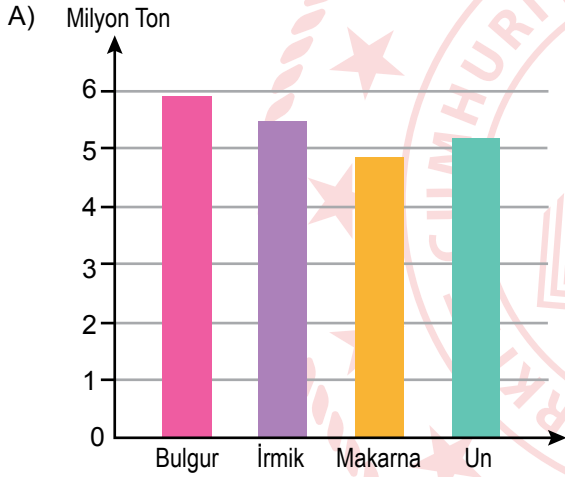


5. Yandaki grafikte bir ülkenin 2015 yılındaki buğday ürünleri ihracat miktarı gösterilmiştir. Bu ülkenin 2016'daki buğday ürünleri ihracat miktarı ile ilgili şu sonuçlara ulaşılmıştır:

- En az ihraç edilen ürün makarnadır.
- Un ihracatında 2015'e göre azalma gözlenmiştir.
- 2015'te en çok ihraç edilen ikinci ürün, 2016'da ilk sıraya yükselmiştir.
- 2015'te en az ihraç edilen ürün, 2016'da en çok ihraç edilen üçüncü ürün olmuştur.



Buna göre sözü edilen ülkenin 2016 yılı buğday ürünleri ihracatını gösteren grafik aşağıdakilerden hangisi olabilir?



6. Toplum içine girdiğimde en çok karşılaştığım sözler şunlar oluyor: “Size çok imreniyoruz, okuyacak ne çok vaktiniz oluyor. Sosyal medyadan paylaştığınız kitapları hevesle alıyor ama onları okuyacak vakti bir türlü bulamıyoruz.” Hâlbuki - - -. Okumak hayatı anlamayı ve anlamlandırmayı kolaylaştırdığı için her anımızda, başka zevk arayışına girmeden bir kitabın sayfalarına demir atıveririz.

**Bu parçada boş bırakılan yere düşüncenin akışına göre aşağıdakilerden hangisi getirilmelidir?**

- A) zaman yetersizliği, yalnız okurların değil, toplumun genel bir sorunudur  
B) okuyacak zamanımız olduğu için okumayız, okumaktan keyif aldığımız için okuruz  
C) biz yazarlar da onlardan çok farklı değiliz, hayat telaşı içinde okumaya zaman bulamıyoruz  
D) okumak, gerçekten de öyle ayaküstü yapılabilecek, geçirilecek bir eylem değildir



7. Bugünkü sanat iklimi, sanatçılardan toplumun dertlerini ele alan şiirler istiyor. Ben de genç bir şair olarak böyle şiirler yazmaya çalışıyorum. Peki, ödevimi tam olarak yerine getirebiliyor muyum, dertlerinin çaresini arayan halka rehberlik edebiliyor muyum? Ne gezer! Bir türlü yapamıyorum. Çünkü yazdığım şiirler, o şiirleri doğuran şartların gerisinde kalıyor. Hayat benden daha hızlı gidiyor, toplum benden daha fazlasını istiyor. Toplum beni takip edecekken ben toplumu takip ediyorum. Bu yüzden son zamanlarda büyük şairlerin, zamanı yakalamaya çalışırken izlediği yöntemlere daha fazla odaklanıyorum.

**Kendisinden böyle söz eden bir şair aşağıdakilerin hangisinde verilenlerle nitelendirilebilir?**

- A) Gayretli - İçer dönük
- B) Şüpheli - Umutlu
- C) Kendine güvenen - Başkalarını önemseyen
- D) Öz eleştiri yapabilen - Gelişime açık



8. Küresel Tohum Deposu, Norveç'te bulunuyor. Burada, dünyanın her köşesinden toplanan 4,5 milyon bitki tohumunun her birinden beş yüz, toplamda 2,25 milyar örneğin depolanması hedefleniyor. İstenen çeşitliliğe ve sayıya ulaşıldıktan sonra depo kapılarının kapatılması, gerekli olmadıkça da depoya giriş ve çıkışların durdurulması planlanıyor. Bir sığınağı andıran bu depo, her biri yirmi yedi metre uzunluğunda, on metre genişliğinde ve altı metre yüksekliğinde üç ana bölümden oluşuyor. Yerin yüz yirmi metre altında bulunmasına rağmen deniz seviyesinin üstünde kalan depo, buzullar erise dahi, yükselen deniz sularının altında kalmayacak ve kutuplardan gelen soğuklardan faydalanacak şekilde özenle konumlandırılmış. Nem düzeyi düşük bir ortamda ve -18 derece sıcaklıkta korunan bitki tohumlarının, içinde buldukları ortamda yıllarca bozulmadan kalacağı düşünülüyor.


**Bu metinde “Küresel Tohum Deposu” ile ilgili aşağıdakilerden hangisine değinilmemiştir?**

- A) Yapı özelliklerine
- B) Taşıdığı öneme
- C) Kuruluş amacına
- D) Ortam koşullarına



9. Aşağıdaki metinlerden hangisine “Sosyal Medyanın Tüketici Davranışlarına Etkisi” başlığının getirilmesi en uygundur?

- A) Sosyal medya bağımlılığı, özellikle akıllı telefonların hayatımıza girmesiyle giderek arttı. Görünür olma ve başkalarının hayatını takip etme isteğinin günümüzde kimileri için abartılı bir hâl aldığı söylenen uzmanlar, sosyal medya bağımlılığının kontrol altına alınmadığı takdirde kaygı bozukluklarından depresyona kadar pek çok zararı olabileceğini vurguluyor.
- B) Son dönemlerde toplumsal hayatta yaşanan birçok gelişme internetin doğrudan ya da dolaylı etkisiyle ortaya çıkmaktadır. Sosyal medya adı verilen bu yeni iletişim mecrası, eski medya araçlarından farklı ve yaşadığımız zamanın ruhuna daha uygundur.
- C) Sosyal medyada bulunan içerikler, bunlardan yararlananların tutumunu ve sosyal medya pazarlamasını biçimlendirmektedir. İnsanlar, bir ürünü satın almaya karar verme noktasında sosyal medyadaki kullanıcı veya firma tarafından oluşturulmuş içeriklerden etkilenmektedir.
- D) İnsanlık tarihi boyunca var olan iletişim, çağımızda yeni bir boyut kazanmıştır. Hızla değişen teknoloji, giderek artan istek ve ihtiyaçlar birtakım iletişim araçlarının ortaya çıkmasını sağlamıştır. Bu iletişim araçlarının en önemlisi günümüzde çok etkin kullanılan internettir. İnsanlar, internet ve sosyal medya sayesinde yeni iletişim olanaklarına sahip olmuşlardır.



10. • Daha az izle, daha fazla yap.  
• Daha az kork, daha fazla dene.  
• Daha az yargıla, daha fazla kabul et.

**Aşağıdaki özdeyişlerden hangisi bu cümlelerin herhangi biriyle anlamca ilişkilendirilemez?**

- A) Elindekiyle yetinmeyen, elde edeceği ile de yetinmez.  
B) Güllerin dikeni olduğundan yakınma, dikenlerin gülü olduğuna şükret.  
C) Seni hayallerine ulaştıracak en önemli şey cesaretindir.  
D) Hayata seyirci kalmaktansa çaba gösteren bir oyuncu ol.



## T.C. İnkılap Tarihi ve Atatürkçülük Örnek Soruları


1. I. Dünya Savaşı sırasında İtilaf Devletlerinin Çanakkale Cephesi'ni açmalarının amaçları şunlardır:
- İstanbul'u işgal ederek Osmanlı Devleti'ni teslim almak.
  - Karadeniz'i geçerek Ruslara yardım götürmek.
  - Savaşa girmeyen devletleri kendi yanlarında savaşa çekmek.

**Bu amaçlar dikkate alındığında;**

- I. Rusya'nın henüz İtilaf Devletlerine katılmadığı,
- II. Osmanlı Devleti'nin stratejik açıdan önemli bir konumda olduğu,
- III. İtilaf Devletlerinin savaşı kısa sürede bitirmeyi hedeflediği

**yorumlarından hangilerine ulaşılabilir?**

- A) Yalnız I.                      B) Yalnız II.                      C) II ve III.                      D) I, II ve III.



2. Osmanlının son dönemlerinde Avrupa devletleri birçok bahane ile devletin iç işlerine müdahale etmişlerdir. TBMM Heyeti, Lozan Barış Antlaşması'nda alınacak kararlarla, yeni kurulan Türk devletinin iç işlerine müdahalede bulunulmasını engellemeye çalışmıştır.

**Lozan Antlaşması'nın aşağıdaki maddelerinden hangisi bu doğrultuda alınan kararlardan biri değildir?**

- A) Kapitülasyonlar kaldırılacaktır.
- B) Düyun-u Umumiye Teşkilatı kaldırılacaktır.
- C) Anadolu'daki bütün gayrimüslimler Türk vatandaşı kabul edilecektir.
- D) Boğazlar "Uluslararası Boğazlar Komisyonu" tarafından yönetilecektir.





3. Milliyetçilik ilkesi;

- Toplum ve devlet düzeni içerisinde inanç ve mezheplere saygılıdır.
- Sınıf ve zümre egemenliğini reddeder.
- Yer altı ve yer üstü kaynaklarının işletilmesinde ulusallaşmayı amaçlar.

**Buna göre Atatürk'ün milliyetçilik ilkesinin;**

- I. Laiklik,
- II. Devletçilik,
- III. Halkçılık

**ilkelerinden hangileriyle ilişkili olduğu söylenebilir?**

- A) Yalnız I.  
C) II ve III.

- B) I ve III.  
D) I, II ve III.



4. Cumhuriyetçilik, devlet yönetiminde millî egemenliği ve millî iradeyi esas alan Atatürk ilkesidir. Bu ilkenin yönetim biçimi ve siyasi rejim olarak ifadesi cumhuriyettir.

**Buna göre Atatürk'ün hangi sözü cumhuriyetçilik ilkesi bağlamında değerlendirilemez?**

- A) Milletin saltanat ve hâkimiyet makamı yalnız ve ancak Türkiye Büyük Millet Meclisidir.
- B) Ben milletimin en büyük ve ecdadımın en kıymetli mirası olan istiklal aşkı ile dolu bir insanım.
- C) Artık hükûmet ile millet arasında geçmişteki ayrılık kalmamıştır. Hükûmet millet; millet hükûmettir.
- D) Efendiler; bu isim gereği bütün dünya bilmelidir ki artık Türkiye halkı hâkimiyetini hiçbir kişi ve makama veremez.



5.



Taraf devletler Balkan Antantı ile II. Dünya Savaşı öncesi buldukları bölgede barışı ve güvenliği sağlamayı amaçlamışlardır.

**Yukarıdaki harita ve bilgi değerlendirildiğinde Balkan Antantı ile ilgili,**

- I. Antanta katılmayan Balkan ülkeleri vardır.
- II. Karadeniz'in güvenliği sağlanmıştır.
- III. Türkiye barışçıl bir politika izlemektedir.

**yargılarından hangilerine ulaşamaz?**

- A) Yalnız II.  
C) II ve III.

- B) I ve II.  
D) I, II ve III.

## Din Kültürü ve Ahlak Bilgisi Örnek Soruları

1. Uzun süredir görüşmediği arkadaşıyla karşılaşan İbrahim, arkadaşının yıllardır hiç çalışmadığını, sürekli ibadet ettiğini öğrenir ve arkadaşına “Seni bu duruma ne getirdi?” diye sorar. O şöyle cevap verir: “Günlerden bir gün, kanatları kırık bir kuş gördüm. Kendi kendime ‘Burada oturayım ve bu kuşun rızkının nereden geldiğini gözetleyeyim.’ dedim. O sırada başka bir kuş gelerek yaralı kuşun yanına kondu ve gagası ile getirdiği yiyeceği onun ağzına bıraktı. Bu durumu görünce ‘Bu kuşun rızkını veren Allah, nerede olursam olayım benim rızkımı da gönderir.’ diyerek kazanç peşinde koşmayı bıraktım ve kendimi tamamen ibadete verdim.” İbrahim “Peki sen neden o kanadı kırık kuş gibi değil de ona yiyecek taşıyan sağlam kuş gibi davranmayı tercih etmiyorsun? Hz. Peygamber’in ‘- - -’ hadisini duymadın mı?” diyerek onu uyardı.

**Metindeki boş bırakılan yere aşağıdaki hadislerden hangisi getirilmelidir?**

- A) Veren el, alan elden üstündür.  
B) Bir şey isteyeceğin zaman Allah'tan iste.  
C) Komşusu açken tok yatan bizden değildir.  
D) Bir iyiliğe öncülük eden kimse o iyiliği yapmış gibidir.



2. Müslüman, insanların elinden ve dilinden emin olduğu kimsedir.

**Bu hadisteki altı çizili ifade;**

- I. çalışkan olmak,
- II. doğru konuşmak,
- III. verdiği sözü tutmak

**tutum ve davranışlarından hangilerini kapsamaktadır?**

- A) Yalnız I.                      B) Yalnız II.                      C) II ve III.                      D) I, II ve III.



3. Hz. Peygamber, Allah'tan başkasından yardım alma gayesi güden her türlü batıl inanç ve hurafe ile mücadele etmiş ve Müslümanları bu konuda uyarmıştır. Örneğin insanların hastalıklardan kurtulmak amacıyla putlara kurban kesmelerini, kâhinlere danışmalarını ve sihir yapmalarını yasaklamıştır.

**Bu yasaklar İslam'ın, korunmasına önem verdiği temel haklardan hangisiyle doğrudan ilgilidir?**

A) Mal

B) Din

C) Nesil

D) Can



4. Hz. Muhammed (sav.), başkasının hurma ağacına taş atan bir çocuğa, ağacı niçin taşıdığını sormuş. Aç olduğu için yaptığını öğrenince de “Evladım, hurma ağacını taşlama; yere düşmüş olan hurmaları alıp ye!” diyerek çocuğa nasihatte bulunmuş, ardından da “Allah’ım, onun açlığını gider!” diyerek dua etmiştir.

**Hz. Peygamber’in bu davranışı hangi konuda örnek oluşturmaz?**

- A) Merhametli olma
- B) Doğayı koruma
- C) Hakkı gözetme
- D) Cömert olma



5. Muamelat, insanlar arasındaki hukukî, malî ve sosyal ilişkileri düzenleyen hükümlerdir.

**Buna göre aşağıdaki ayetlerden hangisi muamelat ile ilgili değildir?**

A) "Biz insana anne babasına iyi davranmayı emrettik..."

(Ahkâf suresi, 15. ayet)

B) "Kitaptan sana vahyolunanı oku, namazı da dosdoğru kıl."

(Ankebût suresi, 45. ayet)

C) "Ölçtüğünüzde ölçmeyi tam yapın, doğru terazi ile tartın..."

(İsrâ suresi, 35. ayet)

D) "...Hiçbir suçlu, başkasının suçunu yüklenmez..."

(En'âm suresi, 164. ayet)





## İngilizce Örnek Soruları

Answer the question according to the text.

1.



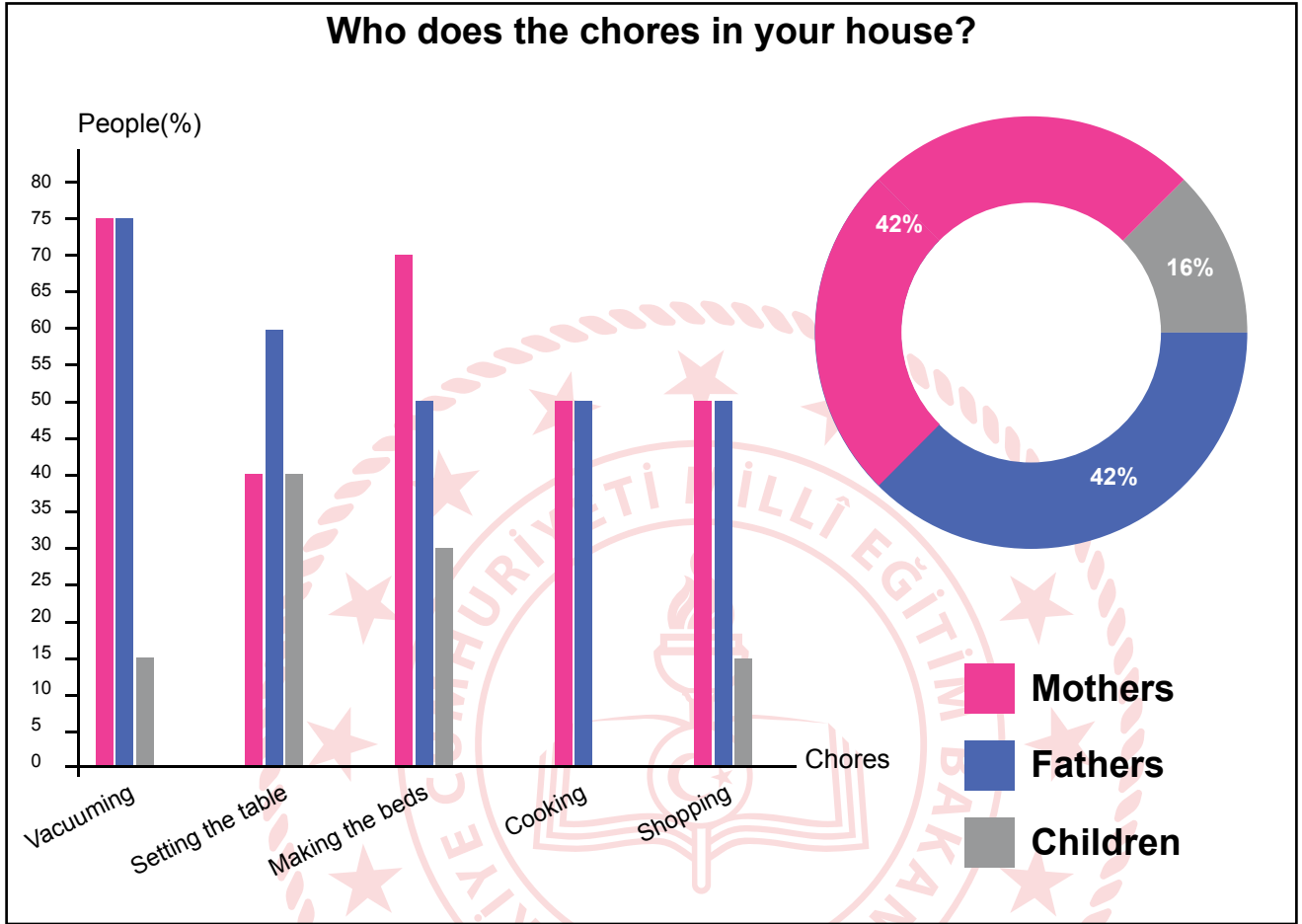
Aziz Sancar was born in Savur, Mardin in 1946. He had four brothers and three sisters. His parents were not rich and all the children including Aziz helped them with their work. He worked hard to be a doctor. He has conducted a lot of research on medicine. Today, he is a world famous scientist who has the Nobel Prize in chemistry.

What is the main idea of the text?

- A) Famous scientists have Nobel prizes.
- B) He had many brothers and sisters.
- C) Hard work brings success.
- D) It was difficult to be a doctor.

Answer the questions 2-3 according to the information below.

2.



Fill in the blank according to the information above.

--- do most of the chores in the house.

- A) Mothers
- B) Parents
- C) Children
- D) Fathers


3. Which of the following is CORRECT according to the information?

- A) Every member of the family takes part in all the household chores.
- B) Fathers spend more time on cooking than mothers and children do.
- C) Mothers are in charge of making the beds less than other members of the family.
- D) The number of mothers vacuuming the house is the same as the number of fathers.



Fill in the blank according to the information below.

4.



## Student Responsibilities

As a student of class 3 – A, I accept to obey all the rules in my classroom.

- ✓ Study hard and do all my homework.
- ✓ Dress appropriately.
- ✓ Respect all students and teachers.
- ✓ Come to class on time.
- ✓ Help other students.
- ✓ Listen carefully to my teacher.
- ✓ Keep the classroom clean and tidy.

Name: Susan Bell  
*Susan*

**A student in this class should - - - - .**

- A) hit their friends
- B) be late for the lesson
- C) not do their homework
- D) not throw garbage on floor

Fill in the blank with the appropriate word.

5.



- A) Earthquake
- B) Forest fire
- C) Drought
- D) Flood


## CEVAP ANAHTARI

### MATEMATİK

1. D
2. B
3. D
4. C
5. C
6. B
7. B
8. C
9. A
10. A

### FEN BİLİMLERİ

1. A
2. B
3. B
4. C
5. D
6. C
7. A
8. C
9. D
10. B



## CEVAP ANAHTARI

### TÜRKÇE

1. D
2. B
3. C
4. A
5. D
6. B
7. D
8. B
9. C
10. A

### T.C. İNKILAP TARİHİ VE ATATÜRKÇÜLÜK

1. C
2. D
3. B
4. B
5. A

### DİN KÜLTÜRÜ VE AHLAK BİLGİSİ

1. A
2. C
3. B
4. D
5. B

### İNGİLİZCE

1. C
2. B
3. D
4. D
5. A